





Date : / /

Prénom :

LA SYMÉTRIE (FICHE 4)

Sur chaque quadrillage, colorie les cases nécessaires pour obtenir le symétrique de la figure grise par rapport l'axe noir.



Sur chaque quadrillage, colorie les cases nécessaires pour obtenir le symétrique de la figure grise par rapport l'axe noir.

