



C'est l'anniversaire de Cathy.
Maman met sur le gâteau 2 bougies roses et 1 bougie bleue.

Quel âge a Cathy ?



Le Père Noël distribue les cadeaux. Il apporte une poupée à Delphine, un camion à Nicolas, un vélo à Thomas et un puzzle à Djamilla.

Combien de cadeaux a-t-il apporté ?



Le petit chaperon rouge cueille des fleurs pour sa maman : 2 fleurs jaunes puis 3 fleurs rouges.


Combien de fleurs a cueilli le petit chaperon rouge ?



Le cochon adore les pommes !

Il a mangé 4 pommes rouges et 3 pommes vertes.

Combien a-t-il mangé de pommes ?



Hugo dessine 4 étoiles.

Il colorie 2 étoiles en jaune et les autres en bleu.

Combien d'étoiles Hugo a-t-il colorié en bleu ?



Il y a 3 pommes : elles sont rouges ou bien jaunes.

Il y a 2 pommes jaunes.

Combien de pommes sont rouges ?



Il y a 5 canards : des noirs et des jaunes.

2 sont noirs et les autres sont jaunes.

Combien y a-t-il de canards jaunes ?



Mathilde a 5 ans.

Justine, sa petite sœur a 2 ans de moins qu'elle.

Quel âge a Justine ?



Hugo a 5 ans.

Nicolas, son grand frère, a 3 ans de plus que lui.

Quel âge a Nicolas ?




Combien de chaussettes faut-il pour tous les enfants ?

La chèvre a 3 salades.

Elle en mange 2.

Combien lui en reste-t-il ?




Le renard a attrapé 5 souris.

Il en mange 3.


Combien lui en reste-t-il ?



L'ours a trouvé 6 pots de miel. Il en mange 2 le matin, 1 à midi.
Combien lui en reste-t-il pour le soir ?



L'écureuil a trouvé 7 noisettes. Il en mange 2, en donne 3 à son copain écureuil et garde le reste.
Combien en garde-t-il ?

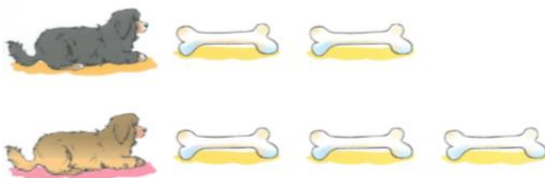


Le chien a trouvé 4 os. Il en mange 1.
Combien lui en reste-t-il ?



5 personnes montent dans une voiture.
La voiture s'arrête devant une maison et 2 personnes en descendent.
Un peu plus loin la voiture s'arrête à nouveau, 1 autre personne descend.

Combien reste-t-il de personnes dans la voiture ?



Le chien gris a 2 os.
Le chien marron a 3 os.

Combien le chien gris et le chien marron ont-ils d'os ensemble ?



La poule marron a 3 œufs.
La poule orange a 2 œufs.

Combien la poule marron et la poule orange ont-elles d'œufs ensemble ?

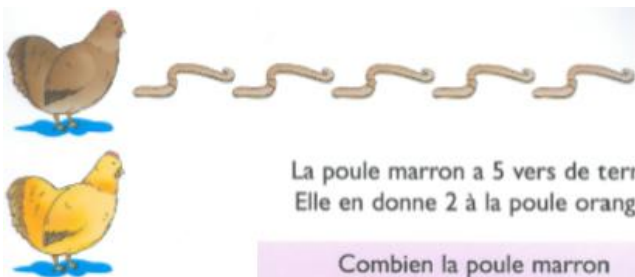
Le singe gris a 4 bananes.
Le singe marron a 2 bananes.

Combien le singe gris et le singe marron ont-ils de bananes ensemble ?



Le singe gris a 4 bananes.
Il en donne 2 au singe marron.

Combien le singe gris a-t-il de bananes maintenant ?



La poule marron a 5 vers de terre.
Elle en donne 2 à la poule orange.

Combien la poule marron a-t-elle de vers de terre maintenant ?



Le singe gris a 2 bananes.
Le singe marron lui en donne encore 4.

Combien le singe gris a-t-il de bananes maintenant ?



La poule marron a 3 œufs.
La poule orange lui en donne encore 2.

combien la poule marron a-t-elle d'œuf maintenant ?



Le chien gris a 1 os.
Le chien marron lui en donne encore 3.

combien le chien gris a-t-il d'os maintenant ?

