
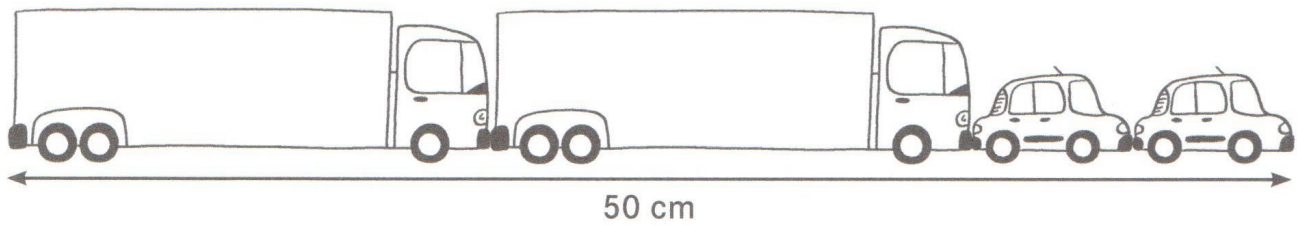
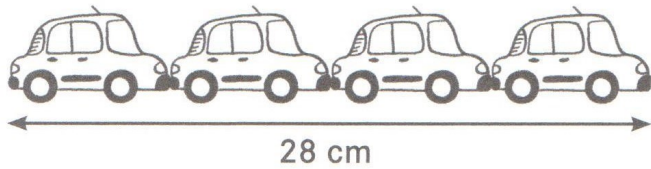


Mardi 19/05

Problème de recherche - déduction: des voitures et des camions

Sam joue à faire des trains avec ses petites voitures et ses camions.
Il a mesuré la longueur des deux premiers trains.

Lou lui dit : « À partir de la longueur de ces deux trains, je peux calculer la longueur du troisième train. »



Quelle est la longueur du troisième train ?
Tu ne dois pas mesurer.

Je cherche: