

	Le nombre juste★	7
+ - x		
39		
25 - 25 - 5 - 10 - 1		

	Le nombre juste★	8
+ - x		
47		
20 - 5 - 2 - 20 - 1		


	Le nombre juste★	9
+ - x		
27		
25 - 10 - 7 - 8 - 5		

	LE NOMBRE JUSTE★
---	------------------

1	2	3
4	5	6
7	8	9

### Comment faire ?

Avec les nombres et les opérations proposées, je dois trouver le nombre juste :

	Le nombre juste★
+ - x	
12	5 + 4 + 3 = 12 Ou 4 x 3 = 12
1 - 2 - 3 - 4 - 5	

Je ne peux utiliser les nombres qu'une seule fois !



Le nombre juste★

1

+ - x

24

1 - 2 - 3 -  
4 - 5



Le nombre juste★

4

+ - x

25

5 - 7 - 8 -  
10 - 10



Le nombre juste★

2

+ - x

20

2 - 5 - 7 -  
8 - 10



Le nombre juste★

5

+ - x

23

1 - 2 - 4 -  
6 - 8 - 2



Le nombre juste★

3

+ - x

17

4 - 8 - 5 -  
5 - 10



Le nombre juste★

6

+ - x

28

10 - 25 - 5  
- 2 - 1