

Calcule.



$80 + 5 = 85$

$94 + 1 = \dots$

$60 + 30 = \dots$

$90 + 2 = \dots$

$97 + 1 = \dots$

$50 + 40 = \dots$

$90 + 6 = \dots$

$92 + 2 = \dots$

$60 + 20 = \dots$

$90 + 8 = \dots$

$91 + 4 = \dots$

$10 + 80 = \dots$

Écris le plus grand nombre
que tu peux écrire avec les étiquettes.

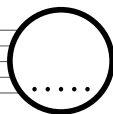
dix

quatre

six

huit

vingt



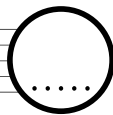
quatre

dix

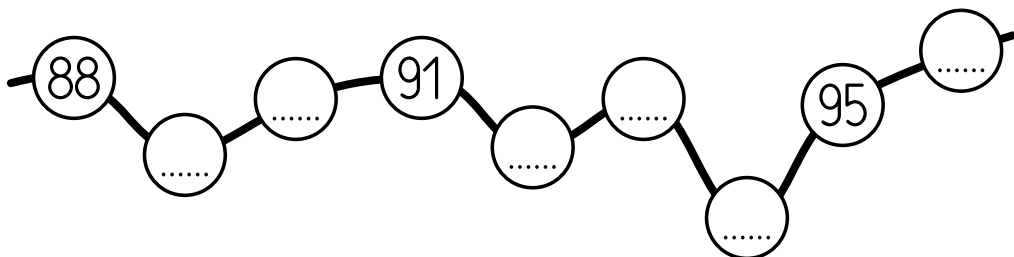
un

neuf

vingt



Écris les nombres qui manquent dans la file numérique.



Calcule.



$80 + 5 = 85$

$94 + 1 = \dots$

$60 + 30 = \dots$

$90 + 2 = \dots$

$97 + 1 = \dots$

$50 + 40 = \dots$

$90 + 6 = \dots$

$92 + 2 = \dots$

$60 + 20 = \dots$

$90 + 8 = \dots$

$91 + 4 = \dots$

$10 + 80 = \dots$

Écris le plus grand nombre
que tu peux écrire avec les étiquettes.

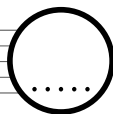
dix

quatre

six

huit

vingt



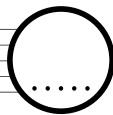
quatre

dix

un

neuf

vingt



Écris les nombres qui manquent dans la file numérique.

