

46A

Prénom

Date

Maths au CP

Nombres
et calculs

Problème 1

Dessine les pièces qui manquent pour acheter le livre.



Écris les calculs

$$8 + \dots = 15$$

$$15 - 8 = \dots$$

Il manque€
pour acheter le livre

Problème 2

Lola collectionne les images de chiens et de chats.
Elle a 6 images de chiens et 7 images de chats.
Combien a-t-elle d'images en tout?

Je cherche.

Je réponds.

46A

Prénom

Date

Maths au CP

Nombres
et calculs

Problème 1

Dessine les pièces qui manquent pour acheter le livre.



Écris les calculs

$$8 + \dots = 15$$

$$15 - 8 = \dots$$

Il manque€
pour acheter le livre

Problème 2

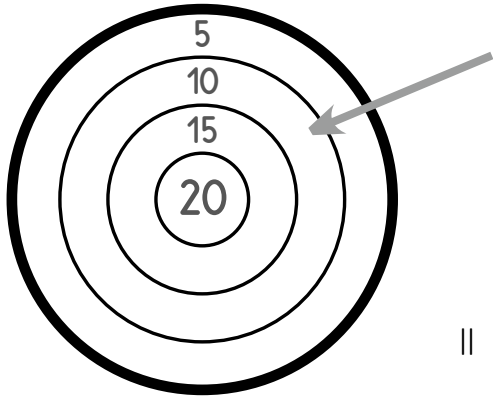
Lola collectionne les images de chiens et de chats.
Elle a 6 images de chiens et 7 images de chats.
Combien a-t-elle d'images en tout?

Je cherche.

Je réponds.



Lola a déjà marqué 10 points.
Combien lui en manque-t-il pour avoir 20 points?




Écris les calculs

$$10 + \dots = 20$$

$$20 - 10 = \dots$$

Il manque points à Lola.

Combien manque-t-il de bougies pour en avoir 17?



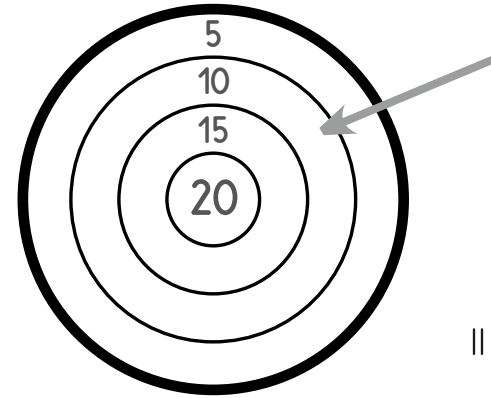
Écris les calculs

$$6 + \dots = 17$$

$$17 - 6 = \dots$$

Il manque bougies.

Lola a déjà marqué 10 points.
Combien lui en manque-t-il pour avoir 20 points?




Écris les calculs

$$10 + \dots = 20$$

$$20 - 10 = \dots$$

Il manque points à Lola.

Combien manque-t-il de bougies pour en avoir 17?



Écris les calculs

$$6 + \dots = 17$$

$$17 - 6 = \dots$$

Il manque bougies.

