

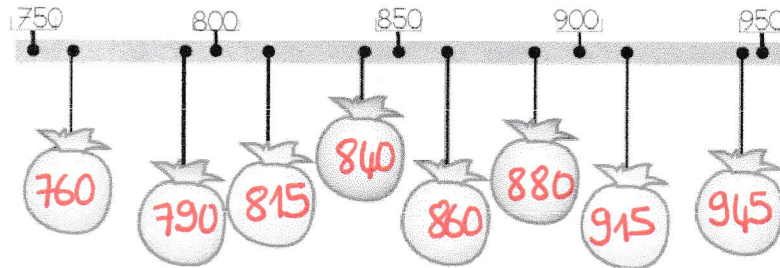
Prénom : .....

Date : ..... / ..... / .....

# DROITE GRADUÉE ET FILE NUMÉRIQUE (FICHE 4)

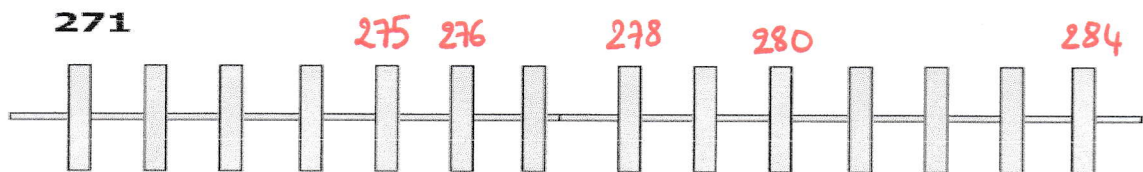
1) Ecris les nombres à leur place dans les sacs :

~~915~~ - ~~860~~ - ~~815~~ - ~~760~~ - ~~945~~ - ~~790~~ - ~~840~~ - ~~880~~




2) Place les nombres sur la droite graduée :

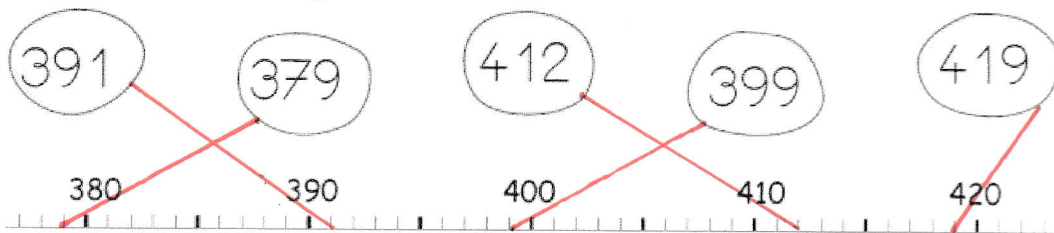
~~280~~ - ~~275~~ - ~~276~~ - ~~284~~ - ~~278~~



~~336~~ - ~~328~~ - ~~330~~ - ~~329~~ - ~~334~~ - ~~332~~

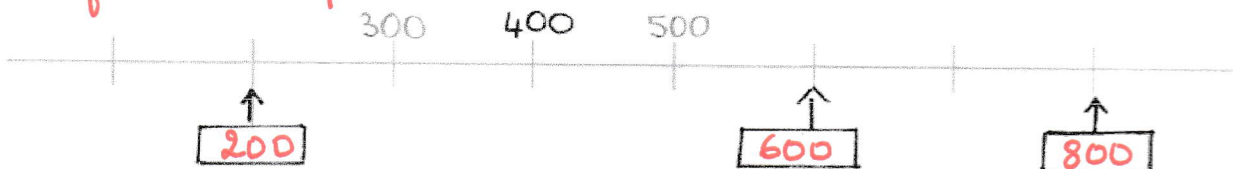


3) Relie les nombres sur la ligne graduée :



4) Ecris les nombres manquants dans les rectangles :

*Il fallait compter de 100 en 100 !*



*Il fallait compter de 5 en 5 !*

