

Écris les deux nombres. Calcule leur somme.

d	u
2	4
3	5
+ 5 9	

Dessine les ronds et calcule.

d	u
2	3
4	5
+ 6 8	

Pose l'opération et calcule.

25+43	
2	5
+	4 3
6 8	

51+8	
5	1
+	. 8
5 9	

37+42	
3	7
+	4 2
7 9	

Calcule.

2 4
+ 5 4
7 8

4 2
+ 7
4 9

5 6
+ 3 2
8 8

8 4
+ 1 3
9 7

Pose et effectue.

24+35	
2	4
+	3 5
5 9	

52+46	
5	2
+	4 6
9 8	

63+6	
6	3
+	. 6
6 9	

6+42	
.	6
+	4 2
4 8	

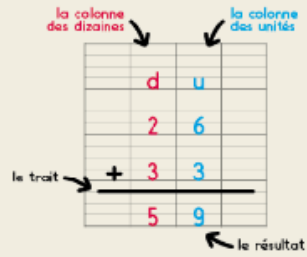
61+28	
6	1
+	2 8
8 9	

50+49	
5	0
+	4 9
9 9	

56

Poser et calculer des additions en colonnes

✓ Je sais poser et calculer des additions en colonnes.




Pour calculer 26+33

- J'écris les unités sous les unités et les dizaines sous les dizaines.
- J'additionne d'abord les unités.
- J'additionne ensuite les dizaines.

26+33=59

1 Lola a planté 35 fleurs dans la cour de l'école. Sami en a planté 24. Combien de fleurs ont-ils plantées en tout? Complète le tableau et calcule.



d	u
3	5
2	4
+	
5	9

Je réponds.

Ils ont planté 59 fleurs.

2 Pose l'opération et calcule.

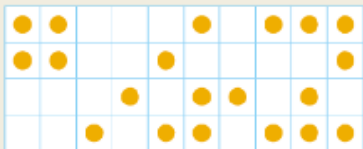
24+52		32+16		13+54				
d	u	d	u	d	u			
2	4	3	2	1	3			
.			
+	5	2	+	1	6	+	5	4
-----		-----		-----				
7	6	4	8	6	7			

3 Pose l'opération et calcule.


14+45		36+51		62+17				
d	u	d	u	d	u			
1	4	3	6	6	2			
.			
+	4	5	+	5	1	+	1	7
-----		-----		-----				
5	9	8	7	7	9			

71+28		43+35		25+52				
d	u	d	u	d	u			
7	1	4	3	2	5			
.			
+	2	8	+	3	5	+	5	2
-----		-----		-----				
9	9	7	8	7	7			

Reproduis le modèle.



Il y a deux lapins gris de plus que de lapins blancs. Colorie les lapins gris.



Pose et effectue les opérations.

$$\begin{array}{r} \text{d u} \\ 13 \\ + 16 \\ \hline 29 \end{array}$$


$$\begin{array}{r} \text{d u} \\ 45 \\ + 23 \\ \hline 68 \end{array}$$

$$\begin{array}{r} \text{d u} \\ 36 \\ + 42 \\ \hline 78 \end{array}$$

$$\begin{array}{r} \text{d u} \\ 73 \\ + 15 \\ \hline 88 \end{array}$$

Calcule le nombre de crayons.

1	7										
+	2	2									
<hr/>											
3	9										



Il y a 39 crayons.

65 Reconnaître et nommer les solides

✓ Je connais les noms des solides.



un cube



une pyramide



un pavé droit



un cylindre



un cône



une boule

Associe chaque solide à l'objet correspondant.

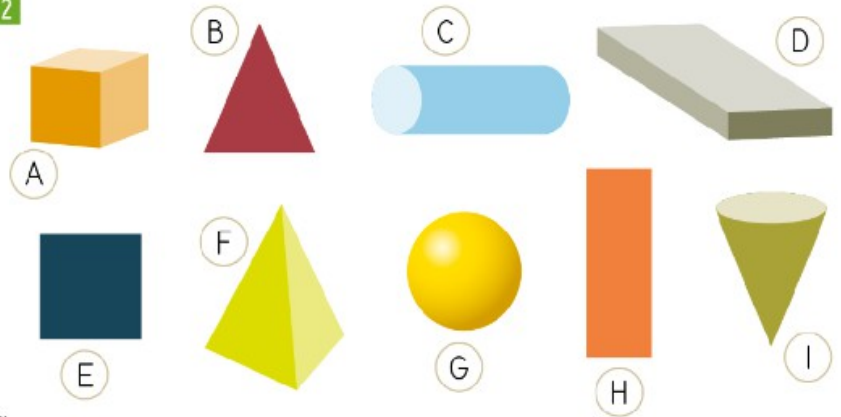


A et 2 B et 5 C et 1
D et 6 E et 4 F et 3

Calcule

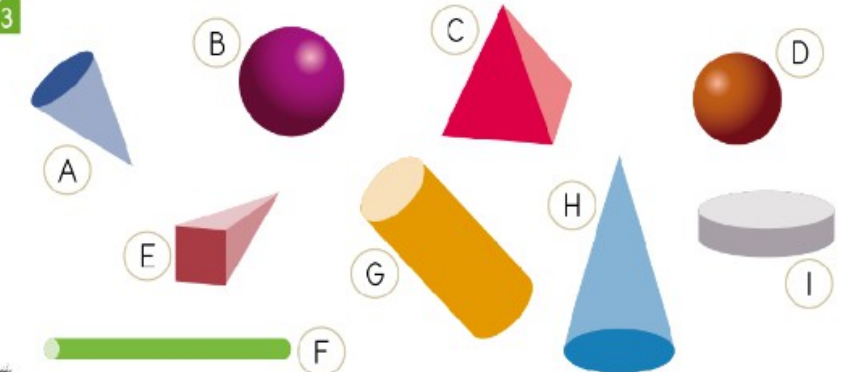
16	29	57	63	38
+36	+42	+22	+17	+54

Écris les lettres qui correspondent à des solides.



C A D F G I

Identifie les solides.



les pyramides: E C les cônes: A H
les cylindres: F G I les boules: B D

Écris un nombre qui convient.

69 > ..68..	16 < ..17..	47 > ..46..	86 > ..80..	37 > ..31..
27 < ..28..	54 > ..53..	11 < ..15..	80 < ..90..	78 > ..77..