

Écris les nombres qui manquent dans la file numérique.



Écris le signe  $>$ ,  $<$  ou  $=$ .

$20 > 13$

$7d5u > 7d2u$

$60 + 16 = 76$

$17 < 19$

$7d > 6d9u$

$70 + 2 > 60 + 9$

$50 + 3 = 53$

$7d7u > 76$

$70 + 9 = 60 + 19$

$73 < 79$

$70 + 3 = 73$

$60 + 12 = 72$

$67 < 76$

$60 + 7 < 76$

$73 > 60 + 3$

$61 < 65$

$9 + 1 < 60$

$70 > 60 + 8$

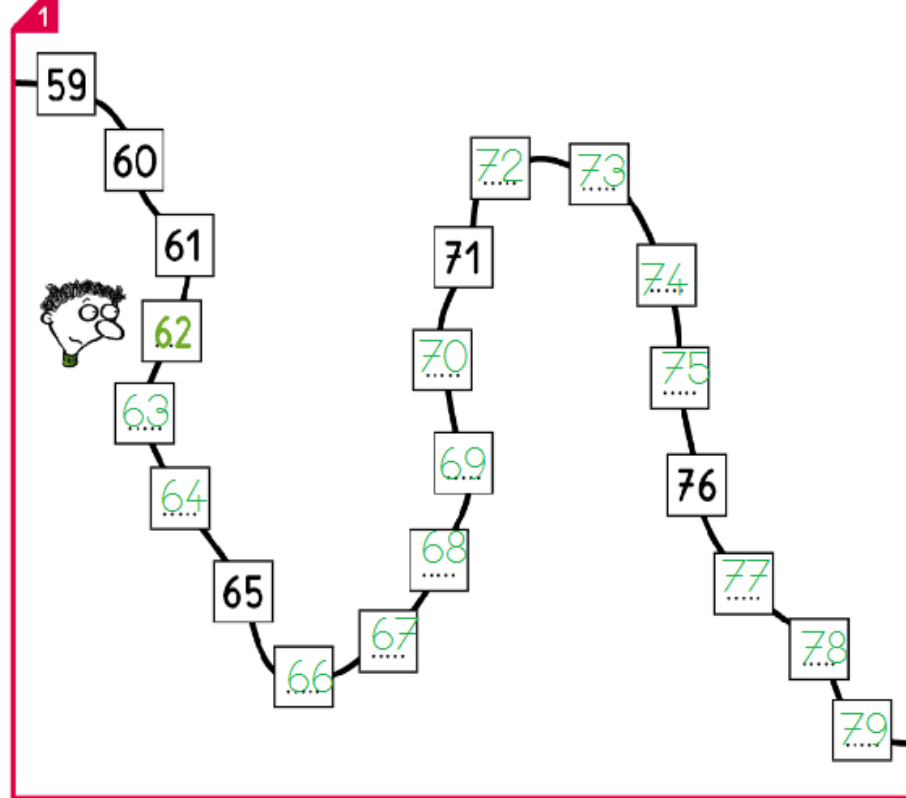
# 45 Comparer et ranger les nombres de 60 à 79

✓ Je sais ranger les nombres compris entre 60 et 79.

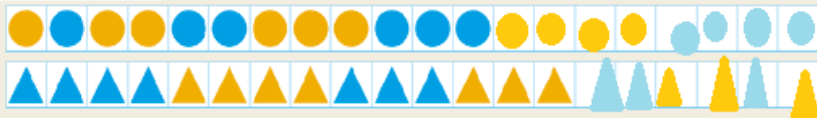
$72 < 78$  7 dizaines et 2 unités < 7 dizaines et 8 unités

$60+5 < 60+15$

1 Complète la file numérique.

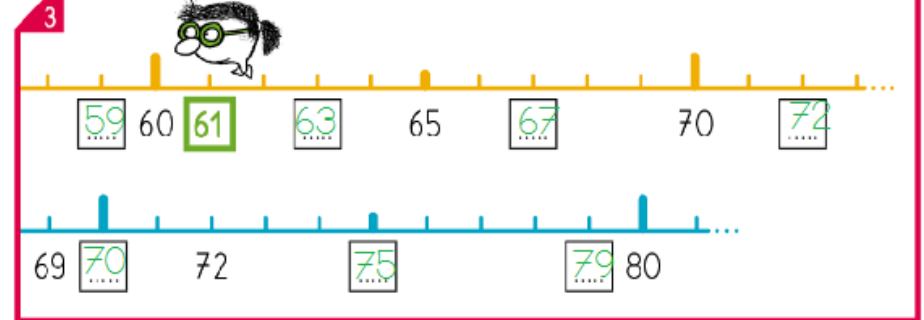


Observe et continue.



2 Écris le nombre qui vient juste avant et le nombre qui vient juste après.

3 Écris les nombres qui manquent dans les étiquettes.




4 Entoure le nombre le plus grand.

Complète.

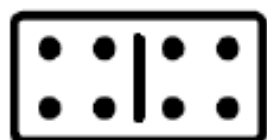
Complète.



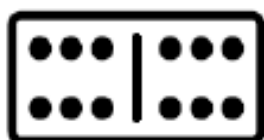
$$3 + 3 = \dots 6$$

Le double de 3, c'est 6

$$5 + 5 = 10$$

Le double de 5, c'est 10

$$4 + 4 = \dots 8$$

Le double de 4, c'est 8


$$6 + 6 = \dots 12$$

Le double de 6, c'est 12

$$2 + 2 = \dots 4$$

Le double de 2, c'est 4

$$1 + 1 = \dots 2$$

Le double de 1, c'est 2Sami a 8 billes. Lola en a le double.  
Combien de billes a Lola? Dessine-les.Lola a 16 billes.

Écris le double de chaque nombre.

$$2 \rightarrow \dots 4$$



$$4 \rightarrow \dots 8$$

$$8 \rightarrow \dots 16$$

$$6 \rightarrow \dots 12$$

$$5 \rightarrow \dots 10$$

$$9 \rightarrow \dots 18$$

$$1 \rightarrow \dots 2$$

$$10 \rightarrow \dots 20$$


$$7 \rightarrow \dots 14$$

# 47 Connaitre les doubles jusqu'à 10 + 10

✓ Je sais que le double d'un nombre est égal à deux fois ce nombre.



Sami a 3 pommes.



Lola en a le double.  
Lola a deux fois 3 pommes.  
 $3 + 3 = 6$   
Lola a 6 pommes.

Complète.

 $1 + 1 = 2$	 $6 + 6 = 12$
 $2 + \dots = 4$	 $7 + 7 = 14$
 $3 + \dots = 6$	 $\dots + \dots = 16$
 $4 + \dots = 8$	 $\dots + \dots = 18$
 $5 + \dots = 10$	 $10 + 10 = 20$

Trace à main levée.



Écris le double de chaque nombre.

2

5 → 10	1 → 2	4 → 8	10 → 20
9 → 18	6 → 12	3 → 6	8 → 16

Entoure le bon plat puis complète.

3

 $4 + 4 = 8$ Le double de 4 est 8.	 $2 + 2 = 4$ Le double de 2 est 4.
 $7 + 7 = 14$ Le double de 7 est 14.	 $6 + 6 = 12$ Le double de 6 est 12.

4 Lola a 6 ans. L'âge de Timéo est le double de celui de Lola. Quel âge a Timéo?

Je calcule  
 $6 + 6 = 12$

Timéo a 12 ans.

5 Sami a 9 billes dans sa poche droite et 9 billes dans sa poche gauche. Combien a-t-il de billes en tout?

Je calcule.  $9 + 9 = 18$

Sami a 18 billes.

Relie.

