



# Matériel 4' Les cartes-nombres de 1 à 10

5

10

4

9

3

8


2

7

1

6


## Fiche recherche sur les doubles jusqu'à 10




BON DE COMMANDE				
	JAUNE	BLANC	ROUGE	BLEU



BON DE COMMANDE				
	JAUNE	BLANC	ROUGE	BLEU

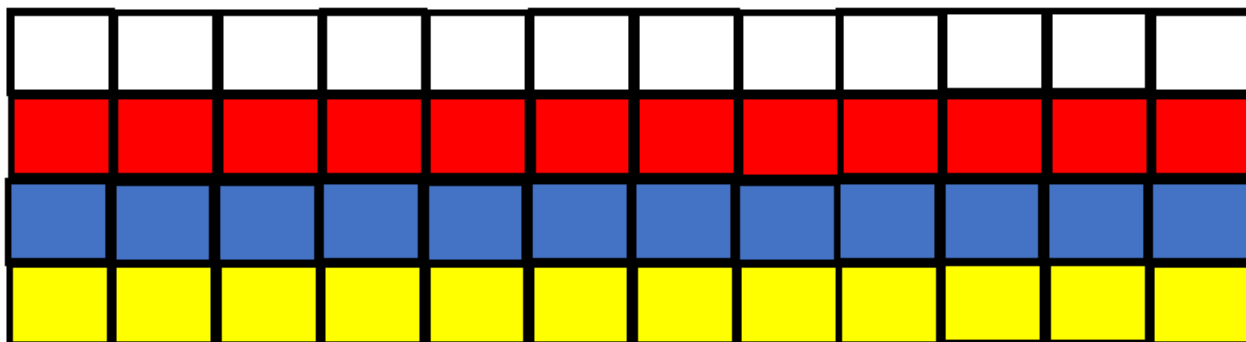


BON DE COMMANDE				
	JAUNE	BLANC	ROUGE	BLEU



BON DE COMMANDE				
	JAUNE	BLANC	ROUGE	BLEU

Matériel 47 : légos à coller (si vous n'avez pas de legos chez vous)



Complète.



$$3 + 3 = \dots\dots$$

Le double de 3, c'est .....



$$5 + 5 = \dots\dots$$

Le double de 5, c'est .....




$$4 + 4 = \dots\dots$$

Le double de 4, c'est .....




$$6 + 6 = \dots\dots$$

Le double de 6, c'est .....



$$2 + 2 = \dots\dots$$

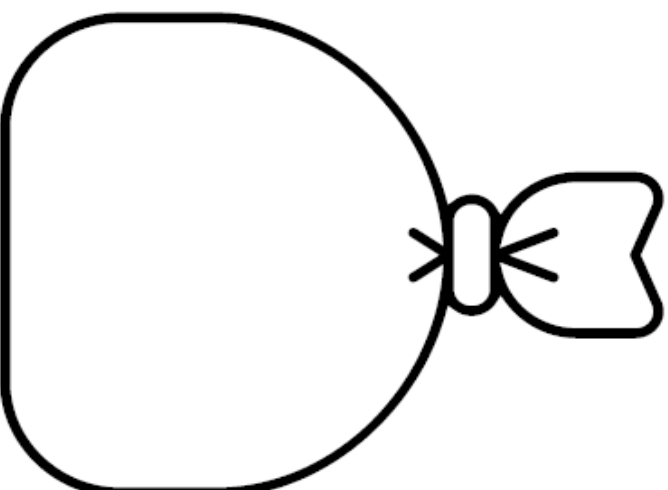
Le double de 2, c'est .....



$$1 + 1 = \dots\dots$$

Le double de 1, c'est .....

Sami a 8 billes. Lola en a le double.  
Combien de billes a Lola? Dessine-les.



Lola a ..... billes.

Écris le double de chaque nombre.

2 → 4



4 →

.....

8 →

.....

6 →

.....

5 →

.....

9 →

.....

1 →

.....

10 →

.....

7 →

.....